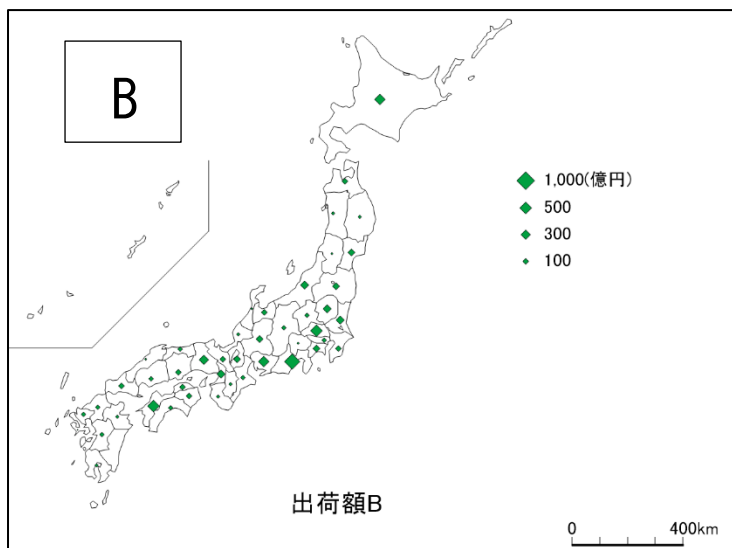


①何の工業の分布か？

\_\_\_\_\_

②事業所数の多い上位3都道府県について、指標を書きなさい。

順位	都道府県名	1事業所あたりの出荷額 (億円)	従業員1人あたりの給与 (万円)
1			
2			
3			

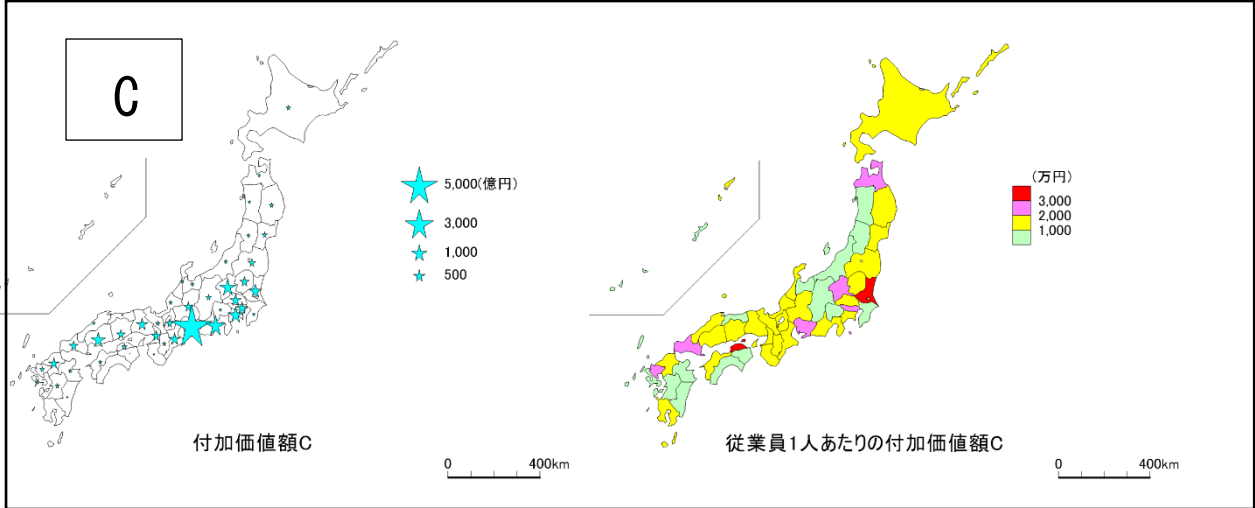


①何の工業の分布か？

\_\_\_\_\_

②出荷額の多い上位3都道府県について、指標を書きなさい。

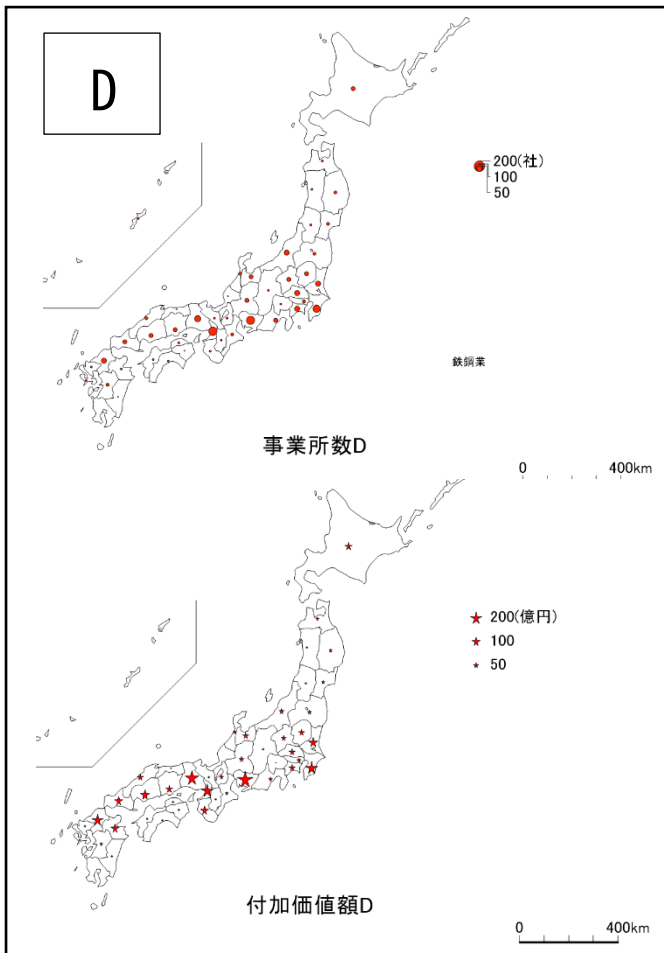
順位	都道府県名	1事業所あたりの出荷額 (億円)	従業員1人あたりの給与 (万円)
1			
2			
3			



①何の工業の分布か？ \_\_\_\_\_

付加価値額と従業員1人あたりの付加価値額の上位3件を比較しなさい。

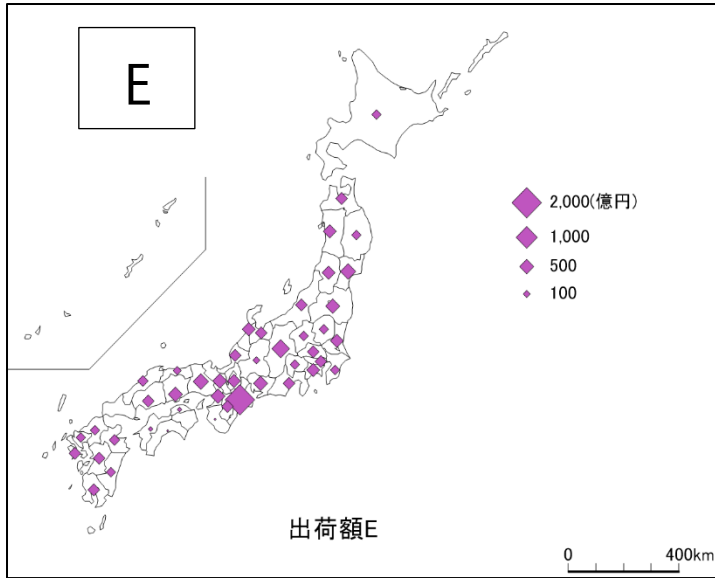
順位	都道府県名	付加価値額 (億円)	都道府県名	一人あたりの 付加価値額 (万円)
1				
2				
3				



①何の工業の分布か？ \_\_\_\_\_

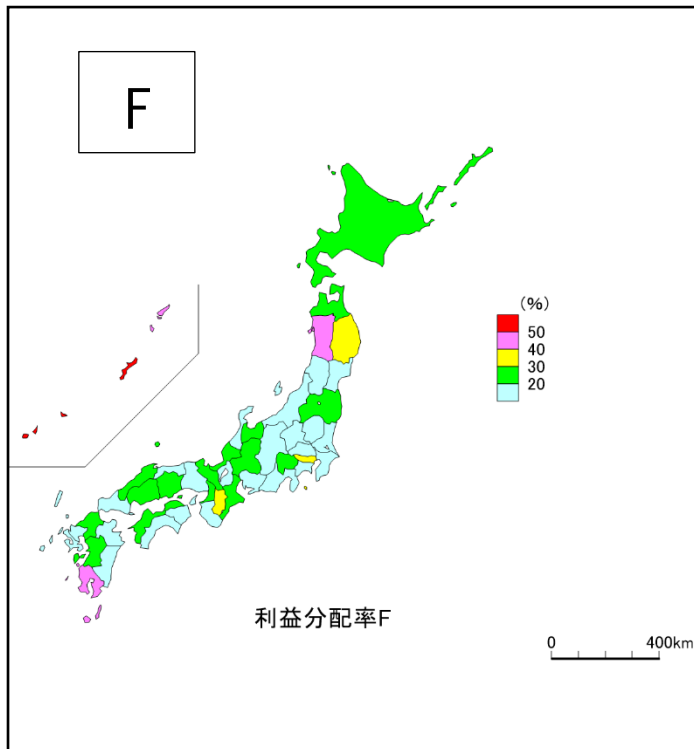
②太平洋岸で事業所数

付加価値額が高い県が多集まっているのはなぜか？



①何の工業の分布か？

②この工業は、いわゆる「太平洋ベルトから離れた場所の都道府県で出荷額付加価値額が高いのはなぜか？



①何の工業の分布か？

②「利益分配率」が低い都道府県を3つ挙げなさい。なぜこの工業およびこれらの県では、利益分配率が低いのか？

順位	都道府県	利益分配率 (%)
1		
2		
3		

利益分配率が低い理由